



Adı, Soyadı:

Sınıfı:

No.:

ETKİNLİK

2. HAFTA

M.5.1.1.3. Kuralı verilen sayı ve şekil örüntülerinin istenen adımlarını oluşturur.

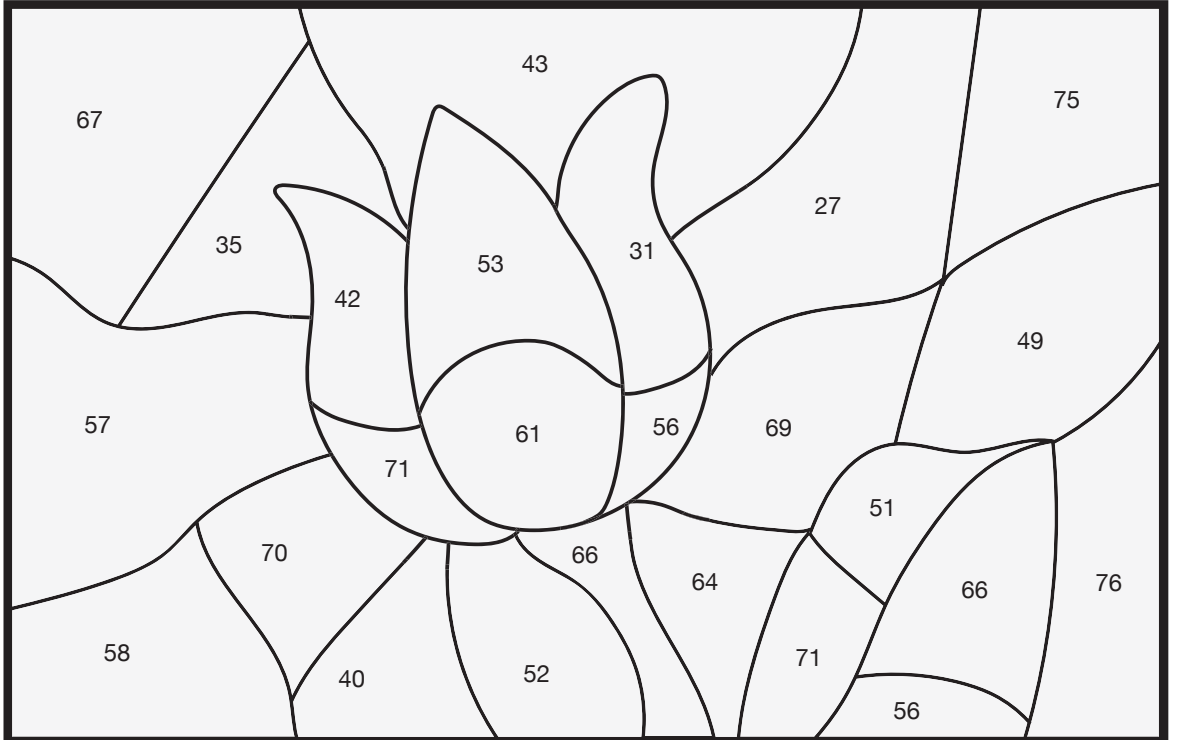


1. Aşağıda renklere göre ayrılmış, adımları arasındaki farkı sabit olan sayı örüntülerinin eksik olan kısımlarına gelmesi gereken sayıları bulunuz.

Pembe	9	20				64	
Sarı		53		61	65		
Mavi	83			59	51		
Kahverengi	34		46				
Yeşil	76					46	41




2. Örüntülerde eksik kalan yerleri tamamladıktan sonra aşağıda verilen boyama kâğıdındaki sayıların ait olduğu bölümü, sayılar hangi örüntünün bir adımını oluşturuyorsa o örüntünün rengine boyayınız.



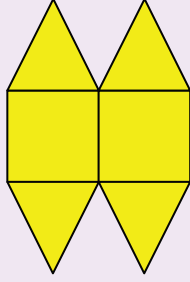


3. Aşağıda verilen şekil örüntülerinin son adımını çiziniz.

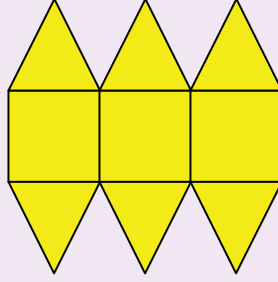
1



1. Adım

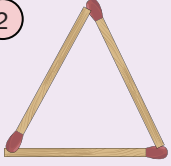


2. Adım

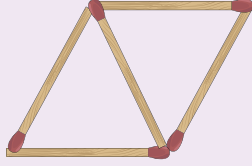


3. Adım

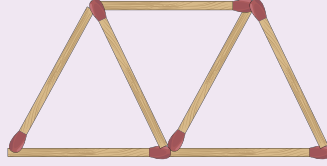
2



1. Adım

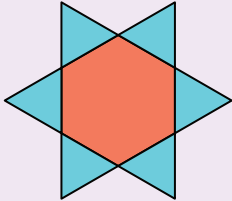


2. Adım

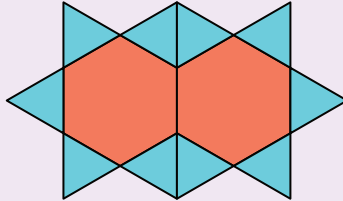


3. Adım

3




1. Adım



2. Adım

4



1. Adım



2. Adım
