



Adı, Soyadı:

Sınıfı:

No.:

ETKİNLİK

2. HAFTA

M.5.1.1.3. Kuralı verilen sayı ve şekil örüntülerinin istenen adımlarını oluşturur.

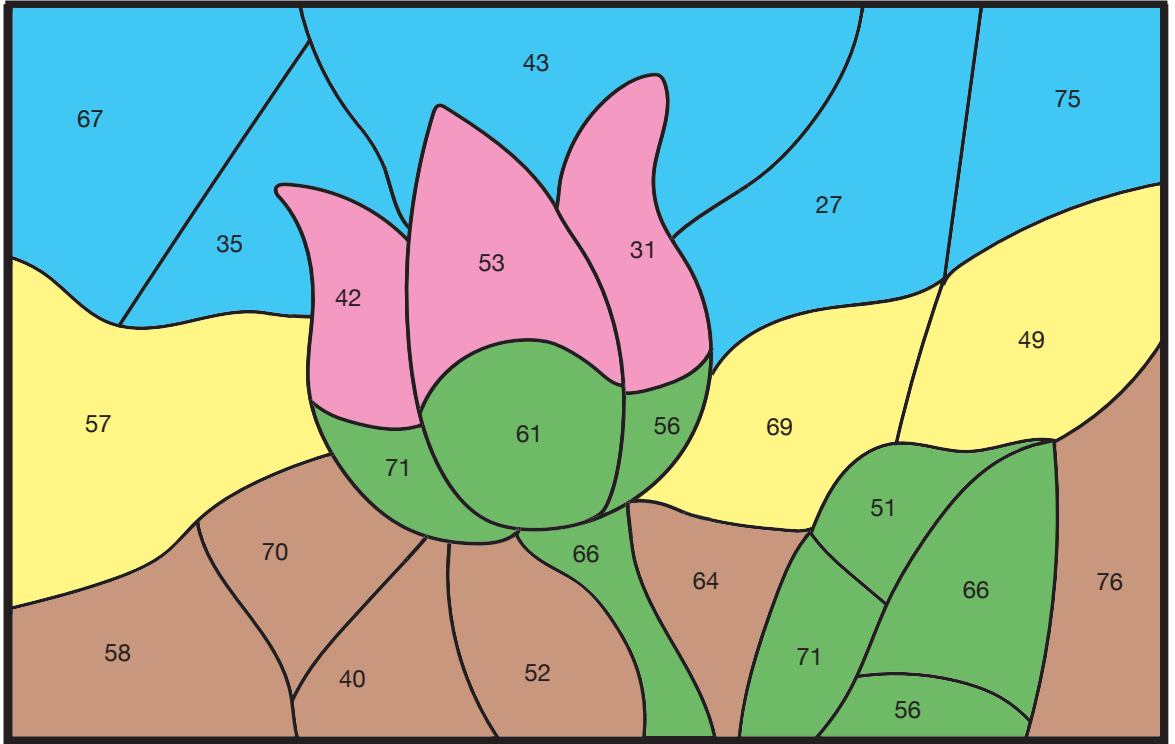


1. Aşağıda renklere göre ayrılmış, adımları arasındaki farkı sabit olan sayı örüntülerinin eksik olan kısımlarına gelmesi gereken sayıları bulunuz.

Pembe	9	20	31	42	53	64		
Sarı	49	53	57	61	65	69		
Mavi	83	75	67	59	51	43	35	27
Kahverengi	34	40	46	52	58	64	70	76
Yeşil	76	71	66	61	56	51	46	41




2. Örüntülerde eksik kalan yerleri tamamladıktan sonra aşağıda verilen boyama kâğıdındaki sayıların ait olduğu bölümü, sayılar hangi örüntünün bir adımını oluşturuyorsa o örüntünün rengine boyayınız.



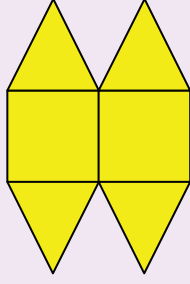


3. Aşağıda verilen şekil örüntülerinin son adımını çiziniz.

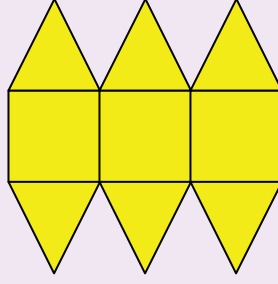
1



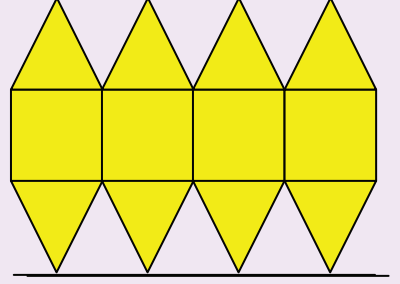
1. Adım



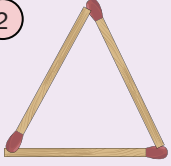
2. Adım



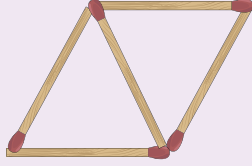
3. Adım



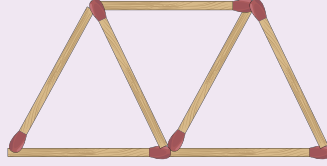
2



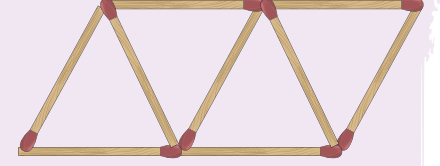
1. Adım



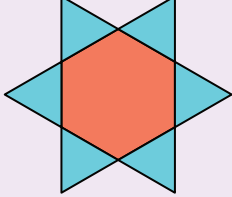
2. Adım



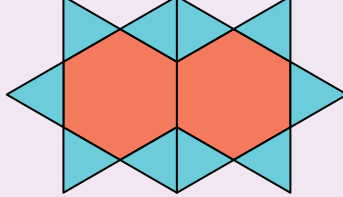
3. Adım



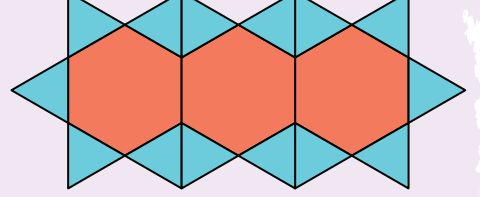
3



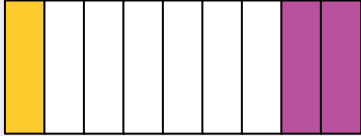
1. Adım




2. Adım



4



1. Adım



2. Adım

