



Adı, Soyadı:

Sınıfı:

No.:

ETKİNLİK

4. HAFTA

M.5.1.2.4. En çok üç basamaklı iki doğal sayının çarpma işlemini yapar.



1. Haydi bakalım çocuklar! Aşağıda verilen çarpma işlemlerini çözünüz. Daha sonra büyük tabloda çarpım sonucunun yazıldığı olduğu kareyi sorunun yanında verildiği gibi boyayınız. Doğru boyarsanız güzel bir desen çıkacağına eminim.



$$\begin{array}{r} 12 \\ \times 25 \\ \hline 300 \end{array}$$



$$\begin{array}{r} 70 \\ \times 46 \\ \hline 3220 \end{array}$$



$$\begin{array}{r} 72 \\ \times 18 \\ \hline 1296 \end{array}$$



$$\begin{array}{r} 42 \\ \times 85 \\ \hline 3570 \end{array}$$



$$\begin{array}{r} 101 \\ \times 32 \\ \hline 3232 \end{array}$$



$$\begin{array}{r} 814 \\ \times 25 \\ \hline 20350 \end{array}$$




$$\begin{array}{r} 914 \\ \times 15 \\ \hline 13710 \end{array}$$



$$\begin{array}{r} 368 \\ \times 112 \\ \hline 41216 \end{array}$$




$$\begin{array}{r} 124 \\ \times 14 \\ \hline 1736 \end{array}$$




$$\begin{array}{r} 544 \\ \times 80 \\ \hline 43520 \end{array}$$



$$\begin{array}{r} 420 \\ \times 30 \\ \hline 12600 \end{array}$$




$$\begin{array}{r} 114 \\ \times 225 \\ \hline 25650 \end{array}$$



$$\begin{array}{r} 251 \\ \times 36 \\ \hline 9036 \end{array}$$



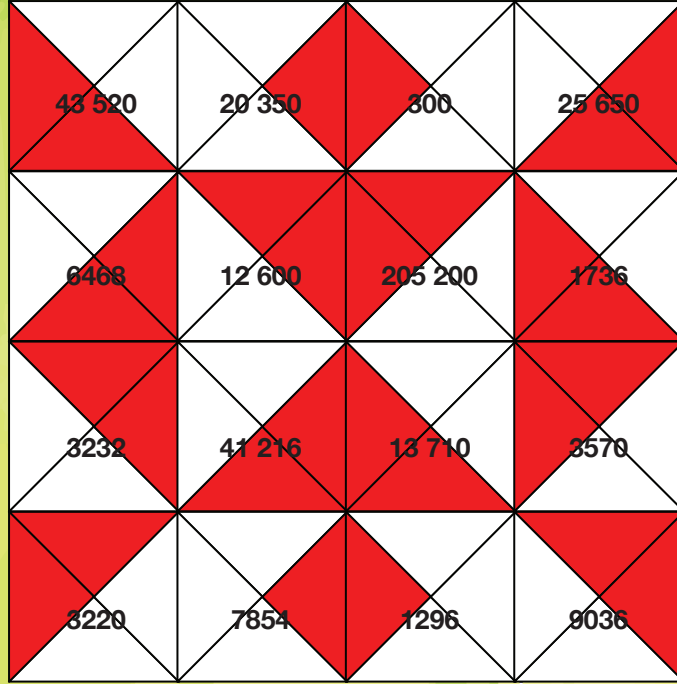
$$\begin{array}{r} 147 \\ \times 44 \\ \hline 6468 \end{array}$$



$$\begin{array}{r} 714 \\ \times 11 \\ \hline 7854 \end{array}$$



$$\begin{array}{r} 912 \\ \times 225 \\ \hline 205200 \end{array}$$





2. Şimdi de senin için bir çarpma dairesi oluşturudum. Dairenin merkezinde verilen sayıyı etrafındaki sayılarla çarp ve onun hizasındaki daire dilimine yazılmış sonuçla karşılaştır. Cevap doğru ise o dilimi sarıya, değilse pembeyle boy! Daire dilimlerinden birisini senin için ben boyadım. Sen de devamını getirebilirsin.

